

Name:

Klasse:

Datum:

Rechnen mit Uhrzeiten



1 Wie spät war/ist es? Berechne die Uhrzeiten.

Jetzt ist es 11:10 Uhr. Wie spät ist es...

in 15 Minuten: _____ Uhr

in 30 Minuten: _____ Uhr

in 1 Stunde: _____ Uhr

in 3 Stunden: _____ Uhr

in 1,5 Stunden: _____ Uhr

Jetzt ist es 20:35 Uhr. Wie spät war es...

vor 10 Minuten: _____ Uhr

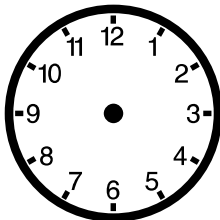
vor 20 Minuten: _____ Uhr

vor 3 Stunden: _____ Uhr

vor 5 Stunden: _____ Uhr

vor 2,5 Stunden: _____ Uhr

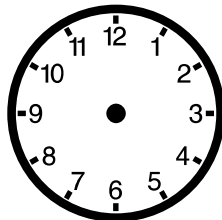
2 Berechne die Uhrzeiten und trage sie in die Uhren ein.



Es ist 12:00 Uhr.

Wie spät ist es in
25 Minuten?

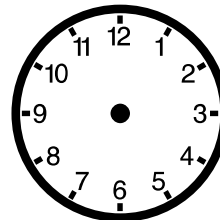
_____ Uhr



Es ist 7:00 Uhr.

Wie spät war es vor
10 Minuten?

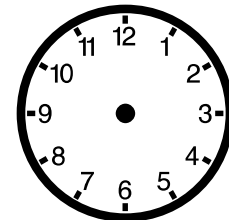
_____ Uhr



Es ist 9:00 Uhr.

Wie spät ist es in
35 Minuten?

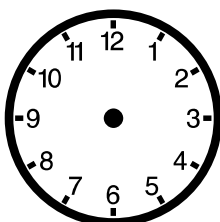
_____ Uhr



Es ist 19:00 Uhr.

Wie spät war es vor
50 Minuten?

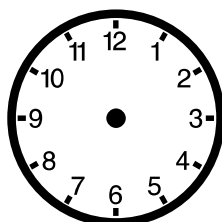
_____ Uhr



Es ist 18:30 Uhr.

Wie spät ist es in
35 Minuten?


_____ Uhr



Es ist 14:00 Uhr.

Wie spät war es vor
50 Minuten?


_____ Uhr



Es ist 8:45 Uhr.

Wie spät ist es in
35 Minuten?

_____ Uhr



Es ist 14:00 Uhr.

Wie spät war es vor
45 Minuten?

_____ Uhr

Name:

Klasse:

Datum:

Lösung

Rechnen mit Uhrzeiten



1 Wie spät war/ist es? Berechne die Uhrzeiten.


Jetzt ist es 11:10 Uhr. Wie spät ist es...

in 15 Minuten: **11:25** Uhr
in 30 Minuten: **11:40** Uhr
in 1 Stunde: **12:10** Uhr
in 3 Stunden: **14:10** Uhr
in 1,5 Stunden: **12:40** Uhr

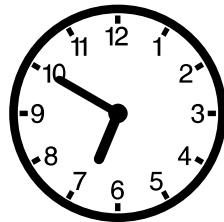
Jetzt ist es 20:35 Uhr. Wie spät war es...

vor 10 Minuten: **20:25** Uhr
vor 20 Minuten: **20:15** Uhr
vor 3 Stunden: **17:35** Uhr
vor 5 Stunden: **15:35** Uhr
vor 2,5 Stunden: **18:05** Uhr


2 Berechne die Uhrzeiten und trage sie in die Uhren ein.




Es ist 12:00 Uhr.
Wie spät ist es in
25 Minuten?
12:25 Uhr




Es ist 7:00 Uhr.
Wie spät war es vor
10 Minuten?
6:50 Uhr




Es ist 9:00 Uhr.
Wie spät ist es in
35 Minuten?
9:35 Uhr




Es ist 19:00 Uhr.
Wie spät war es vor
50 Minuten?
18:10 Uhr




Es ist 18:30 Uhr.
Wie spät ist es in
35 Minuten?
19:05 Uhr



Es ist 14:00 Uhr.
Wie spät war es vor
50 Minuten?
13:10 Uhr



Es ist 8:45 Uhr.
Wie spät ist es in
35 Minuten?
9:20 Uhr



Es ist 14:00 Uhr.
Wie spät war es vor
45 Minuten?
13:15 Uhr